


Zuerst finde die passende Frage zu jeder Aufgabe. Dann schreibe die Rechenaufgabe auf und rechne sie aus. Zuletzt schreibe einen Antwortsatz. - Level1 -

1. Du hast zwei Äpfel und bekommst noch einen dazu.

Frage: \_\_\_\_\_

Rechnung: \_\_\_\_\_

Antwort: \_\_\_\_\_

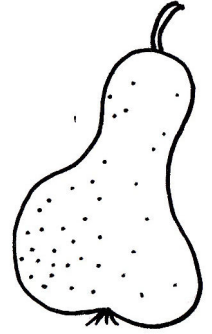


2. Von deinen fünf Birnen verschenkst du zwei an deine Schwester.

Frage: \_\_\_\_\_

Rechnung: \_\_\_\_\_

Antwort: \_\_\_\_\_




3. Du besitzt einen Würfel. Für das Spiel brauchst du aber zwei Würfel.

Frage: \_\_\_\_\_

Rechnung: \_\_\_\_\_

Antwort: \_\_\_\_\_



4. Deine Schwester hat fünf Bonbons. Sie möchte dir so viele abgeben, dass sie noch drei übrig hat.

Frage: \_\_\_\_\_

Rechnung: \_\_\_\_\_

Antwort: \_\_\_\_\_



5. Unter meiner Hand verstecke ich eine bestimmte Anzahl Muggelsteine, damit du sie nicht sehen kannst. Du hast vier Stück, zusammen haben wir fünf.

Frage: \_\_\_\_\_

Rechnung: \_\_\_\_\_

Antwort: \_\_\_\_\_



6. Von deinen Autos verschenkst du eines an deinen Freund, jetzt hast du noch vier Autos.

Frage: \_\_\_\_\_

Rechnung: \_\_\_\_\_

Antwort: \_\_\_\_\_




7. Zusammen besitzen wir sechs Autos. Davon gehören dir drei.

Frage: \_\_\_\_\_

Rechnung: \_\_\_\_\_

Antwort: \_\_\_\_\_

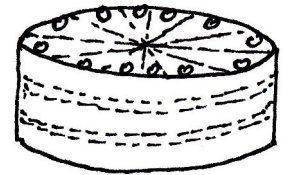


8. Nach der Geburtstagsfeier war ein Tortenstück übrig. Vor der Feier waren es acht Tortenstücke.

Frage: \_\_\_\_\_

Rechnung: \_\_\_\_\_

Antwort: \_\_\_\_\_




9. Im Regal stehen noch zwei Bücher. Drei Bücher habe ich meiner Freundin geliehen.

Frage: \_\_\_\_\_

Rechnung: \_\_\_\_\_

Antwort: \_\_\_\_\_




10. Wir haben fünf Runden Halli Galli gespielt. Du hast zwei mal gewonnen.

Frage: \_\_\_\_\_

Rechnung: \_\_\_\_\_

Antwort: \_\_\_\_\_

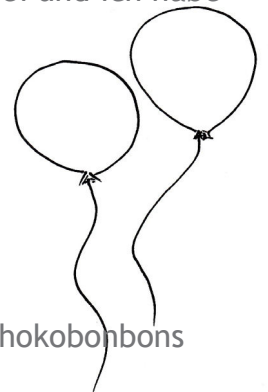


11. Zu unserer Faschingsparty kommt eine bestimmte Anzahl Kinder. Du hast drei und ich habe vier Kinder eingeladen.

Frage: \_\_\_\_\_

Rechnung: \_\_\_\_\_

Antwort: \_\_\_\_\_

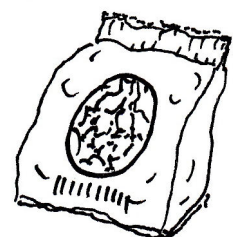


12. Wir wissen nicht wie viele Bonbons noch in der Tüte sind. Es waren zehn Schokobonbons darin, davon haben wir schon fünf aufgegessen.

Frage: \_\_\_\_\_

Rechnung: \_\_\_\_\_

Antwort: \_\_\_\_\_



Zuerst finde die passende Frage zu jeder Aufgabe. Dann schreibe die Rechenaufgabe auf und rechne sie aus. Zuletzt schreibe einen Antwortsatz. - Level 1 -

1. Pias Bleistift ist 9 cm lang. Hannes Bleistift ist 1 cm länger.

Frage: \_\_\_\_\_

Rechnung: \_\_\_\_\_

Antwort: \_\_\_\_\_

2. Rollis Rotstift ist 13 cm lang. Susis Rotstift ist 3 cm kürzer.

Frage: \_\_\_\_\_

Rechnung: \_\_\_\_\_

Antwort: \_\_\_\_\_

3. In Ferdis Geldbörse befinden 60 ct. In Haralds Geldbeutel sind 10 ct mehr.

Frage: \_\_\_\_\_

Rechnung: \_\_\_\_\_

Antwort: \_\_\_\_\_

4. Nicki hat 50 ct in ihrer Hosentasche. In Roberts Tasche sind 10 ct weniger.

Frage: \_\_\_\_\_

Rechnung: \_\_\_\_\_

Antwort: \_\_\_\_\_

5. Selina ist 90 cm groß. Harry ist 2 cm größer.

Frage: \_\_\_\_\_

Rechnung: \_\_\_\_\_

Antwort: \_\_\_\_\_

6. Sebastian ist 90 cm groß. Gerald ist 10 cm kleiner.

Frage: \_\_\_\_\_

Rechnung: \_\_\_\_\_

Antwort: \_\_\_\_\_


Zuerst finde die passende Frage zu jeder Aufgabe. Dann schreibe die Rechenaufgabe auf und rechne sie aus. Zuletzt schreibe einen Antwortsatz.- Level 2 -

1. Du hast zehn Äpfel und bekommst noch drei dazu.

Frage: \_\_\_\_\_

Rechnung: \_\_\_\_\_

Antwort: \_\_\_\_\_

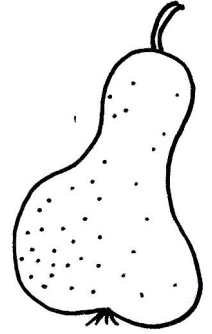


2. Von deinen zwölf Birnen verschenkst du zwei an deine Schwester.

Frage: \_\_\_\_\_

Rechnung: \_\_\_\_\_

Antwort: \_\_\_\_\_




3. Du besitzt fünf Würfel. Für das Spiel brauchst du aber zehn Würfel.

Frage: \_\_\_\_\_

Rechnung: \_\_\_\_\_

Antwort: \_\_\_\_\_



4. Deine Schwester hat fünfzehn Bonbons. Sie möchte euch so viele abgeben, dass sie noch fünf übrig hat.

Frage: \_\_\_\_\_

Rechnung: \_\_\_\_\_

Antwort: \_\_\_\_\_



5. Unter meiner Hand verstecke ich eine bestimmte Anzahl Muggelsteine, damit du sie nicht sehen kannst. Du hast sieben Stück, zusammen haben wir siebzehn.

Frage: \_\_\_\_\_

Rechnung: \_\_\_\_\_

Antwort: \_\_\_\_\_



6. Von meinen Puppen gab ich zwei an meine Freundin. Jetzt habe ich noch drei Puppen.

Frage: \_\_\_\_\_

Rechnung: \_\_\_\_\_

Antwort: \_\_\_\_\_




7. Zusammen besitzen wir sechszehn Autos. Davon gehören dir drei.

Frage: \_\_\_\_\_

Rechnung: \_\_\_\_\_

Antwort: \_\_\_\_\_

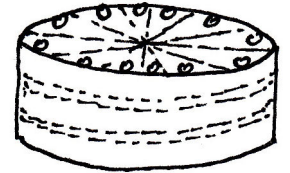


8. Nach der Geburtstagsfeier waren sieben Tortenstücke übrig. Vor der Feier waren es achtzehn Tortenstücke.

Frage: \_\_\_\_\_

Rechnung: \_\_\_\_\_

Antwort: \_\_\_\_\_




9. Im Regal stehen jetzt noch zwanzig Bücher. Zuvor habe ich meiner Freundin drei Bücher geliehen.

Frage: \_\_\_\_\_

Rechnung: \_\_\_\_\_

Antwort: \_\_\_\_\_




10. Wir haben fünfzehn Runden Halli Galli gespielt. Du hast zehn mal gewonnen.

Frage: \_\_\_\_\_

Rechnung: \_\_\_\_\_

Antwort: \_\_\_\_\_

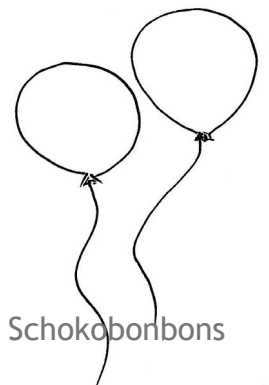


11. Zu unserer Faschingsparty kommt eine bestimmte Anzahl Kinder. Du hast sechs und ich habe vier Kinder eingeladen.

Frage: \_\_\_\_\_

Rechnung: \_\_\_\_\_

Antwort: \_\_\_\_\_

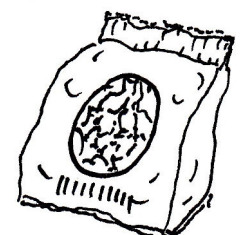


12. Wir wissen nicht wie viele Bonbons noch in der Tüte sind. Es waren zwanzig Schokobonbons darin, davon haben wir jetzt schon sechs aufgegessen.

Frage: \_\_\_\_\_

Rechnung: \_\_\_\_\_

Antwort: \_\_\_\_\_



Zuerst finde die passende Frage zu jeder Aufgabe. Dann schreibe die Rechenaufgabe auf und rechne sie aus. Zuletzt schreibe einen Antwortsatz.- Level 3 -

1. Du hast zwanzig Äpfel und bekommst noch zehn dazu.

Frage: \_\_\_\_\_

Rechnung: \_\_\_\_\_

Antwort: \_\_\_\_\_

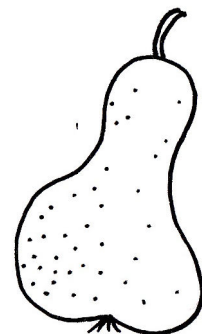


2. Von deinen fünfundzwanzig Birnen verschenkst du fünf an deine Schwester.

Frage: \_\_\_\_\_

Rechnung: \_\_\_\_\_

Antwort: \_\_\_\_\_




3. Du besitzt vierzehn Würfel. Für das Spiel brauchst du aber zwanzig Würfel.

Frage: \_\_\_\_\_

Rechnung: \_\_\_\_\_

Antwort: \_\_\_\_\_



4. Deine Schwester hat fünfzig Bonbons. Sie möchte euch so viele abgeben, dass sie noch dreißig übrig hat.

Frage: \_\_\_\_\_

Rechnung: \_\_\_\_\_

Antwort: \_\_\_\_\_



5. Unter meiner Hand verstecke ich eine bestimmte Anzahl Muggelsteine, damit du sie nicht sehen kannst. Du hast neun Stück, zusammen haben wir zwanzig.

Frage: \_\_\_\_\_

Rechnung: \_\_\_\_\_

Antwort: \_\_\_\_\_



6. Von deinen Puppen verschenkst du acht an deine kleine Schwester. Jetzt hast du noch zwanzig.

Frage: \_\_\_\_\_

Rechnung: \_\_\_\_\_

Antwort: \_\_\_\_\_




7. Zusammen besitzen wir sechzig Autos. Davon gehören dir dreißig.

Frage: \_\_\_\_\_

Rechnung: \_\_\_\_\_

Antwort: \_\_\_\_\_

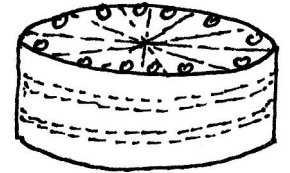


8. Nach der Geburtstagsfeier war ein Tortenstück übrig. Vor der Feier waren es vierundzwanzig Tortenstücke.

Frage: \_\_\_\_\_

Rechnung: \_\_\_\_\_

Antwort: \_\_\_\_\_




9. Im Regal stehen jetzt noch fünfundvierzig Bücher. Zuvor habe ich meiner Freundin drei Bücher geliehen.

Frage: \_\_\_\_\_

Rechnung: \_\_\_\_\_

Antwort: \_\_\_\_\_




10. Wir haben dreißig Runden Halli Galli gespielt. Du hast achtzehn mal gewonnen.

Frage: \_\_\_\_\_

Rechnung: \_\_\_\_\_

Antwort: \_\_\_\_\_




11. Zu unserer Faschingsparty kommt eine bestimmte Anzahl Kinder. Du hast dreizehn und ich habe zehn Kinder eingeladen.

Frage: \_\_\_\_\_

Rechnung: \_\_\_\_\_

Antwort: \_\_\_\_\_

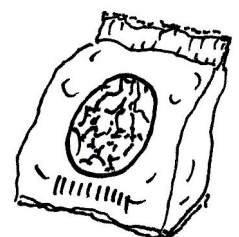


12. Wir wissen nicht wie viele Bonbons noch in der Tüte sind. Es waren fünfunddreißig Schokobonbons darin, davon haben wir jetzt schon acht aufgegessen.

Frage: \_\_\_\_\_

Rechnung: \_\_\_\_\_

Antwort: \_\_\_\_\_




Zuerst finde die passende Frage zu jeder Aufgabe. Dann schreibe die Rechenaufgabe auf und rechne sie aus. Zuletzt schreibe einen Antwortsatz.- Level 4 -

1. Du hast dreiundzwanzig Äpfel und bekommst noch zehn dazu.

Frage: \_\_\_\_\_

Rechnung: \_\_\_\_\_

Antwort: \_\_\_\_\_

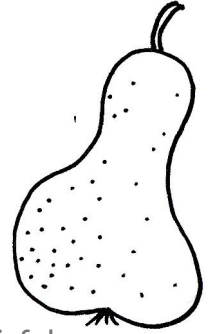


2. Von deinen fünfundzwanzig Birnen verschenkst du zehn an deine Schwester.

Frage: \_\_\_\_\_

Rechnung: \_\_\_\_\_

Antwort: \_\_\_\_\_




3. Du besitzt vierzehn Würfel. Für das Spiel brauchst du aber vierundzwanzig Würfel.

Frage: \_\_\_\_\_

Rechnung: \_\_\_\_\_

Antwort: \_\_\_\_\_



4. Deine Schwester hat sechzig Bonbons. Sie möchte euch so viele abgeben, dass sie noch fünfundvierzig übrig hat.

Frage: \_\_\_\_\_

Rechnung: \_\_\_\_\_

Antwort: \_\_\_\_\_



5. Unter meiner Hand verstecke ich eine bestimmte Anzahl Muggelsteine, damit du sie nicht sehen kannst. Du hast siebzehn Stück, zusammen haben wir fünfundzwanzig.

Frage: \_\_\_\_\_

Rechnung: \_\_\_\_\_

Antwort: \_\_\_\_\_



6. Von deinen Puppen verschenkst du neun an deine kleine Schwester. Jetzt hast du noch fünfzehn.

Frage: \_\_\_\_\_

Rechnung: \_\_\_\_\_

Antwort: \_\_\_\_\_




7. Zusammen besitzen wir vierundsechzig Autos. Davon gehören dir fünfundzwanzig.

Frage: \_\_\_\_\_

Rechnung: \_\_\_\_\_

Antwort: \_\_\_\_\_

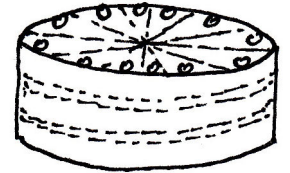


8. Nach der Geburtstagsfeier waren fünf Tortenstücke übrig. Vor der Feier waren es zweiunddreißig Tortenstücke.

Frage: \_\_\_\_\_

Rechnung: \_\_\_\_\_

Antwort: \_\_\_\_\_




9. Im Regal stehen jetzt noch dreiundvierzig Bücher. Zuvor habe ich meiner Freundin acht Bücher geliehen.

Frage: \_\_\_\_\_

Rechnung: \_\_\_\_\_

Antwort: \_\_\_\_\_




10. Wir haben fünfundzwanzig Runden Halli Galli gespielt. Du hast vierzehn mal gewonnen.

Frage: \_\_\_\_\_

Rechnung: \_\_\_\_\_

Antwort: \_\_\_\_\_




11. Zu unserer Faschingsparty kommt eine bestimmte Anzahl Kinder. Du hast neun und ich habe sieben Kinder eingeladen.

Frage: \_\_\_\_\_

Rechnung: \_\_\_\_\_

Antwort: \_\_\_\_\_

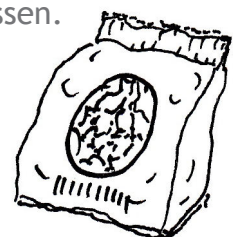


12. Wir wissen nicht wie viele Bonbons noch in der Tüte sind. Es waren zweiundvierzig Schokobonbons darin, davon haben wir jetzt schon vierundzwanzig aufgegessen.

Frage: \_\_\_\_\_

Rechnung: \_\_\_\_\_

Antwort: \_\_\_\_\_



1. Pia war sieben Tage krank. Jeden Tag musste sie zwei Tabletten nehmen.

Frage: \_\_\_\_\_

Rechnung: \_\_\_\_\_

Antwort: \_\_\_\_\_

2. Für den Besuch im Kino zahlte Herr Munte für jedes Kind vier Euro. Insgesamt zahlte er für alle Kinder zwölf Euro.

Frage: \_\_\_\_\_

Rechnung: \_\_\_\_\_

Antwort: \_\_\_\_\_

3. In drei Packungen mit Ostereiern sind insgesamt vierundzwanzig Stück.

Frage: \_\_\_\_\_

Rechnung: \_\_\_\_\_

Antwort: \_\_\_\_\_

4. In einer Kiste waren vierundzwanzig Orangen. Damit konnten drei Netze gefüllt werden.

Frage: \_\_\_\_\_

Rechnung: \_\_\_\_\_

Antwort: \_\_\_\_\_

5. Alex hat fünfunddreißig Briefmarken gesammelt. Er legt immer je fünf in eine Reihe.

Frage: \_\_\_\_\_

Rechnung: \_\_\_\_\_

Antwort: \_\_\_\_\_

6. Wie viele Sticker habe ich, wenn ich vier Packungen zu je sechs Stück besitze?

Rechnung: \_\_\_\_\_

Antwort: \_\_\_\_\_

7a. Ein Lieferwagen verteilt sechzehn Kartons mit Nudeln an zwei Supermärkte.

Frage: \_\_\_\_\_

Rechnung: \_\_\_\_\_

Antwort: \_\_\_\_\_

7b. Der Wagen liefert sechzehn Kartons mit Nudeln aus. Jeder Supermarkt hat zwei Kartons bestellt.

Frage: \_\_\_\_\_

Rechnung: \_\_\_\_\_

Antwort: \_\_\_\_\_

8a. Die Oma verteilt dreißig Euro an ihre Enkel, so dass jedes Kind fünf Euro bekommt.

Frage: \_\_\_\_\_

Rechnung: \_\_\_\_\_

Antwort: \_\_\_\_\_

8b. Die Oma teilt dreißig Euro an fünf Kinder aus.

Frage: \_\_\_\_\_

Rechnung: \_\_\_\_\_

Antwort: \_\_\_\_\_

9a. Es wurden 40 Kühe auf Ställe verteilt. Es kommen immer 8 Kühe in einen Stall.

Frage: \_\_\_\_\_

Rechnung: \_\_\_\_\_

Antwort: \_\_\_\_\_

9b. Es wurden 40 Kühe von einer Weide auf acht Ställe verteilt.

Frage: \_\_\_\_\_

Rechnung: \_\_\_\_\_

Antwort: \_\_\_\_\_

10a. Jeder Blumenstrauß enthält sechs Blumen. Frau Goba hatte all ihre gepflückten Blumen auf sieben Vasen verteilt.

Frage: \_\_\_\_\_

Rechnung: \_\_\_\_\_

Antwort: \_\_\_\_\_

10b. Frau Bothe füllte sechs Vasen. All ihre gepflückten Blumen hatte sie in Sträußen mit je sieben Stück aufgeteilt.

Frage: \_\_\_\_\_

Rechnung: \_\_\_\_\_

Antwort: \_\_\_\_\_

11a. Fußballtrainer Fritz Maier zahlte für einen Ball drei Euro. Er kaufte für einundzwanzig Euro neue Bälle.

Frage: \_\_\_\_\_

Rechnung: \_\_\_\_\_

Antwort: \_\_\_\_\_

11b. Handballtrainer Ulli Bosch kaufte drei neue Bälle. Er gab dafür einundzwanzig Euro aus.

Frage: \_\_\_\_\_

Rechnung: \_\_\_\_\_

Antwort: \_\_\_\_\_

12a. Wie viele Melonen sind in einem Karton, wenn fünfzig Melonen auf zehn Kartons verteilt werden?

Rechnung: \_\_\_\_\_

Antwort: \_\_\_\_\_

12b. Wie viele Kartons benötige ich, wenn 50 Melonen in Gruppen zu je zehn Melonen verpackt werden?

Rechnung: \_\_\_\_\_

Antwort: \_\_\_\_\_